

2. **Selecciona** la fracción correcta que corresponde a cada gráfico:



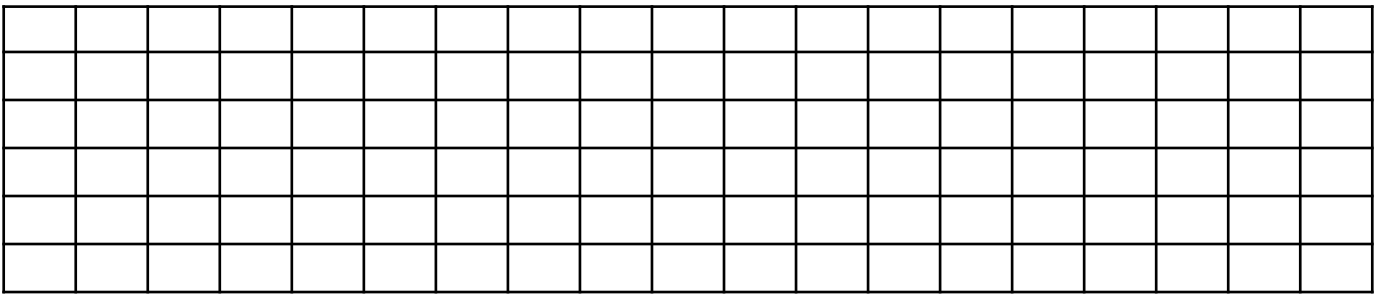
$\frac{2}{10}$	$\frac{5}{9}$	$\frac{7}{10}$
----------------	---------------	----------------



$\frac{4}{6}$	$\frac{1}{5}$	$\frac{3}{6}$
---------------	---------------	---------------

3. **Resuelve** la siguiente situación de fracción de un número.

En un vacacional se han inscrito 1200 estudiantes. Si en fútbol asisten $\frac{2}{5}$ y los demás niños asisten a las otras disciplinas. ¿Cuántos niños asisten al fútbol?



4. **Escribe** el signo mayor que $>$, menor que $<$ o igual que $=$ según corresponda:

a) $\frac{1}{5}$ $\frac{2}{4}$

b) $\frac{1}{2}$ $\frac{3}{4}$

c) $\frac{2}{7}$ $\frac{2}{8}$

d) $\frac{4}{2}$ $\frac{2}{2}$

5. **Escribe** fracciones equivalentes, amplificando o simplificando.



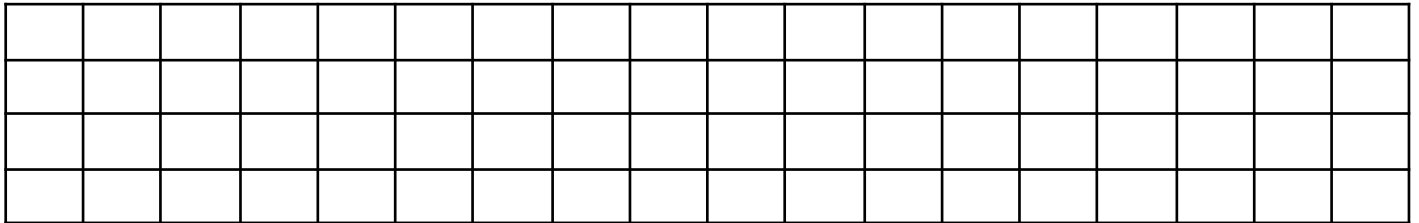
$\frac{3}{7}$	$\frac{21}{\quad}$
---------------	--------------------



$\frac{2}{6}$	$\frac{1}{\quad}$
---------------	-------------------

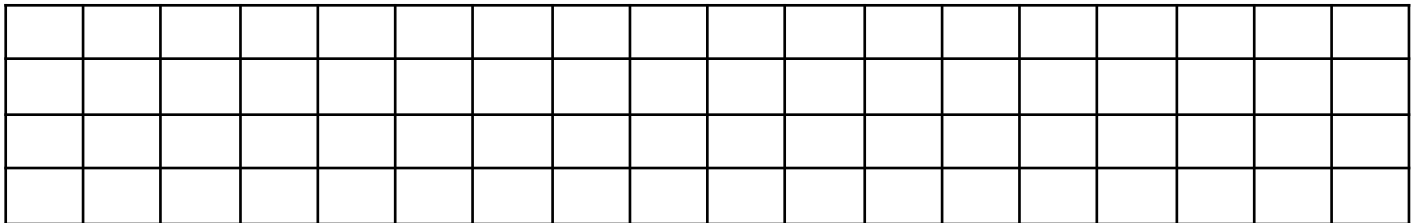
6. **Resuelva** la siguiente situación de comparación de fracciones.

Sonia tiene 2 cartulinas iguales, una roja y otra azul. Las divide en 8 partes iguales y utiliza $\frac{1}{3}$ de la cartulina roja y $\frac{1}{5}$ de la cartulina azul. ¿De qué color utiliza más?



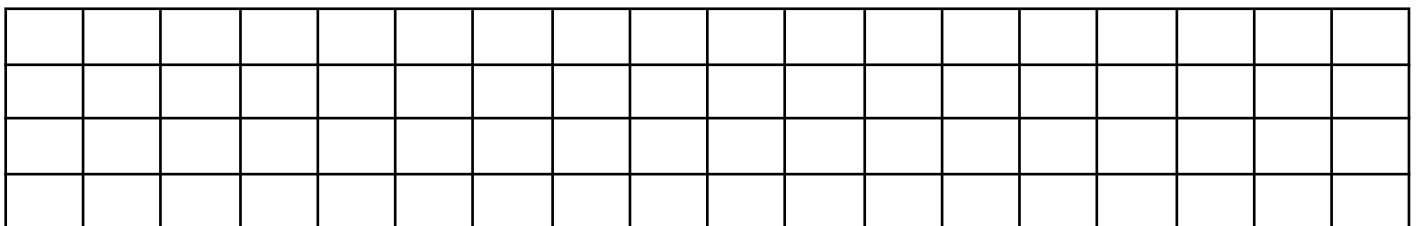
7. **Resuelva** la siguiente situación de fracciones equivalentes.

Dos inseparables amigos: Manuel y Teresa jugaron a "Simón dice". Manuel reunió $\frac{3}{6}$ de los objetos, Teresa $\frac{2}{4}$ de los objetos. ¿Quién reunió más objetos?



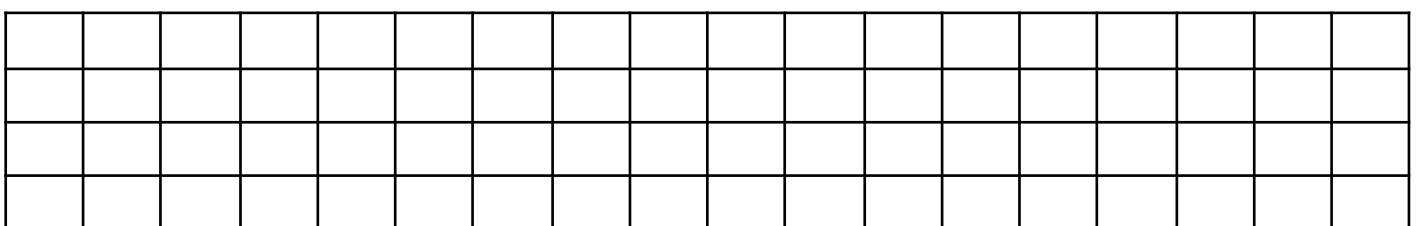
8. **Resuelva** y encierra la opción correcta.

a) $389 + 695 =$



¿Cuántas cifras tiene el resultado? a) 3 cifras b) 4 cifras c) 5 cifras

b) $345 \times 8 =$



¿Cuántas cifras tiene el resultado? a) 3 cifras b) 4 cifras c) 5 cifras

❖ Tenemos que repartir **4 kilos de arroz** en **16 frascos iguales**. ¿Con cuántos **gramos de arroz** tenemos que llenar cada frasco?

14. Resuelva la siguiente situación de capacidad.

Anita compra **4 litros** de leche a 3 dólares cada una. ¿Cuántos **militros** de leche compró Anita y cuántos dólares pagó?



15. Relaciona el nombre con su respectiva figura geométrica.


Rombo

Rectángulo

Romboide

Trapezio

Cuadrado



16. Escribe 2 características de los paralelogramos.

1. _____

2. _____

